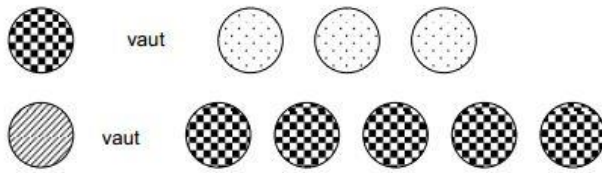




**PARTIE DE BILLES !**

A la récréation, Lili, Marco et Natacha ont joué aux billes ensemble. Ils possèdent des billes de différentes sortes et toutes les billes n'ont pas la même valeur.






A la fin de la récréation, qui a le tas de billes avec la plus grande valeur ?

**Corrigé :**

C'est Natacha qui a le tas de billes avec la plus grande valeur.

Procédure possible :

			
LILI	4	1	$8 + (4 \times 3) + (5 \times 3) = 35$
MARCO	7	1	$2 + (7 \times 3) + (5 \times 3) = 38$
NATACHA	2	2	$8 + (2 \times 3) + (2 \times 5 \times 3) = 44$