


# LES FAÇADES DE LA MAISON

Lisa et Pascal observent leur maison.

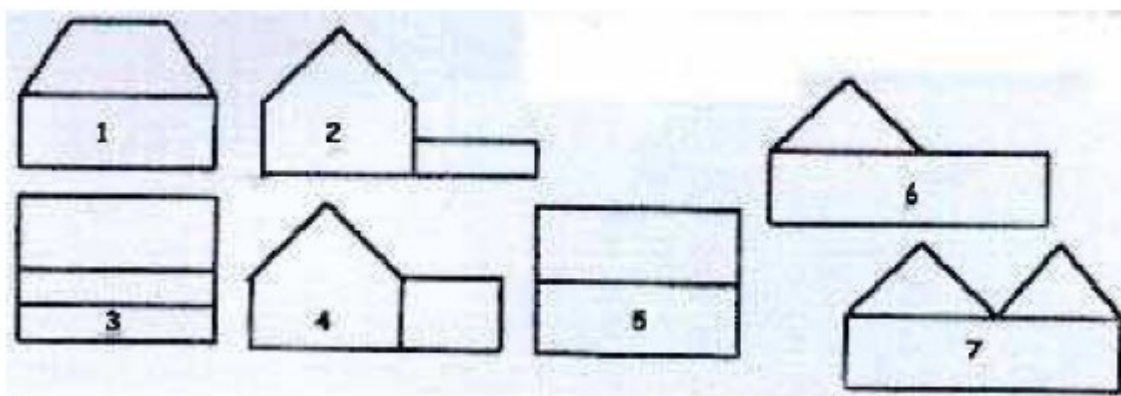


Pascal

Lisa

1. Quelle façade voit Pascal (de là où il se trouve) ?

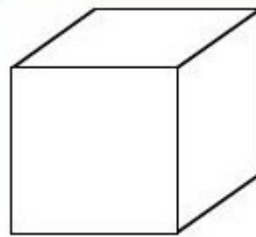
2. Quelle façade voit Lisa (de là où elle se trouve) ?



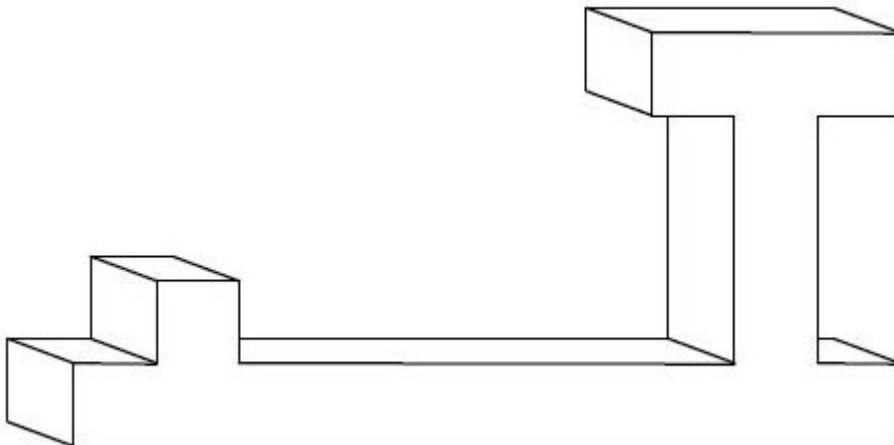
## COMBIEN DE FACES ?

valeur 15 points

Ce cube possède 6 faces



Combien de faces ce solide possède-t-il ?



## UN POINT DE VUE

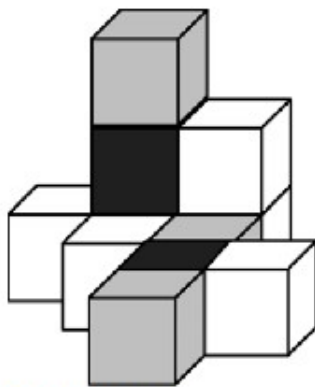
valeur 18 points

J'ai des cubes tout blancs, tout gris ou tout noirs.

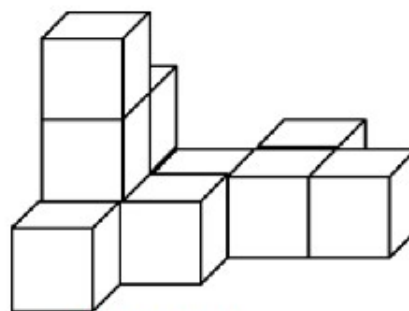
J'ai fait un seul assemblage.

J'ai pris deux photos de mon assemblage mais la deuxième photo a perdu ses couleurs.

Mettez les couleurs sur la deuxième photo.



Première photo



deuxième photo